



扫一扫，
订阅顺为
教育微信
公众号！



龙泉驿区 2016~2017 学年度下学期期末学业质量检测

一年级数学

题号	一	二	三	四	五	六	总分
分值	15	15	23	12	15	20	100
得分							

说明：1. 时间：60 分钟。2. 监考老师注意念题，每题念两遍。3. 满分 100 分。

65 知识与技能

一、口算。(15 分)

$$\begin{array}{llll}
 34 + 40 = & 6 + 8 = & 75 - 4 = & 18 - 9 = \\
 30 + 70 = & 57 - 30 = & 5 + 31 = & 50 + 15 = \\
 86 - 16 = & 15 - 7 = & 26 + 14 = & 30 + 40 - 20 = \\
 28 - 7 = & 66 - 6 = & 50 - 20 + 10 = &
 \end{array}$$

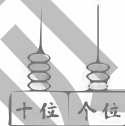
二、填空。(15 分)

1. 在下面○里填上“>”“<”或“=”。

$$28 \bigcirc 8 \quad 72 - 26 \bigcirc 28 + 18 \quad 32 + 45 \bigcirc 54 + 32$$

2. 在算式“ $36 + 12 = 48$ ”中，和是()；“ $82 - 17 = 65$ ”中，减数是()，差是()。

3. 右面计数器表示的数是()。这个数里面有()个十和()个一。



4. 数一数，下面左边的图中有()个长方形。



5. 右上图是百数表中的一部分，想一想，填一填。

6. 找规律填一填。

$$\triangle \square \triangle \triangle \square \square \triangle \triangle \square \square \square \square \triangle \triangle (\) (\) \square \square \square$$

三、计算。(23 分)

1. 列竖式计算。

$$3 + 53 = \quad 87 - 25 = \quad 74 - 8 =$$

$$48 - 19 = \quad 26 + 74 = \quad 60 - 37 =$$

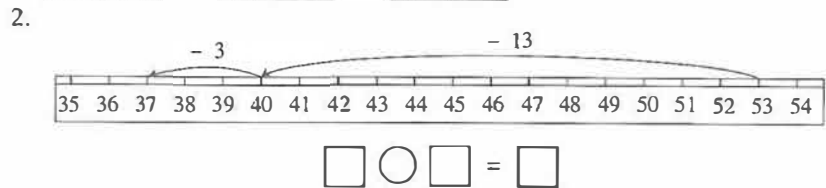
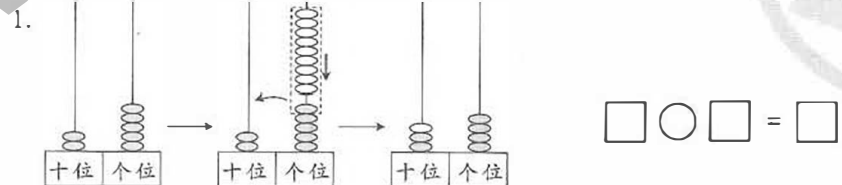
2. 列式计算。




我加上 12 就是 36。



四、数学应用。(12 分)



3. 一共摘了多少个桃子？



我摘的与它同样多。



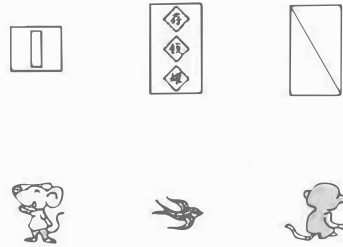

$$\square \bigcirc \square = \square (\text{个})$$

答：一共摘了 _____ 个。

15 思考与操作

五、动手操作。(15分)

1. 连一连。



2. 下面的说法对吗？在正确的说法后面画“√”，错误的说法后面画“×”。

61

淘气说：它比60大，比70小。

()

笑笑说：有90本书，拿走39本后，还剩61本。

()

奇思说：它里面有1个十和6个一。

()


妙想说： $43 + 18 = 61$ 。

()

3. 在下面的点子图中画一个正方形。



4. 可能有多少只？在你认为合适的结果下面画“√”。



13只	48只	80只

20 问题与策略

六、解决问题。(20分)

学校开展跳绳比赛，谁跳得最多，谁就是第一名。




1. 跳了多少下？

$\square \bigcirc \square = \square$ (下) 答：跳了 下。

2. 跳了多少下？

(1) 我能画图解决。



(2) 我能列式解决。

$\square \bigcirc \square = \square$ (下)

答：跳了 下。

3. 按下面的要求填表。

成绩			73下	
名次				3

(1) 先在表中填出 和 的成绩。

(2) 把四个小朋友的名次排出来，填在表中。

(3) 可能跳了多少下？



扫一扫，
订阅顺为
教育微信
公众号！