

锦江区 2016-2017 学年度下期小学一年级数学

终结性评价

(考试时间：50 分)

一、我会计算.

1. 直接写出得数.

$99 - 7 =$	$11 - 3 =$	$37 + 6 =$	$22 + 45 =$
$25 + 16 =$	$42 + 42 =$	$100 - 19 =$	$88 - 22 =$
$60 + 2 =$	$100 - 40 =$	$40 + 18 =$	$53 - 15 =$
$23 - 11 =$	$80 + 19 =$	$96 - 76 =$	$47 + 53 =$

2. 在○里填上“>”、“<”或“=”.

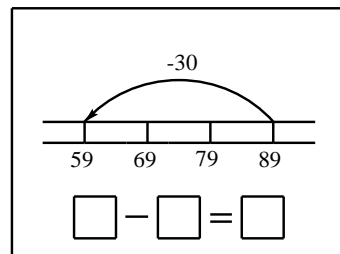
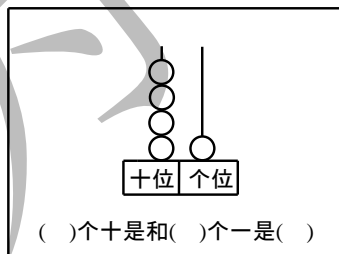
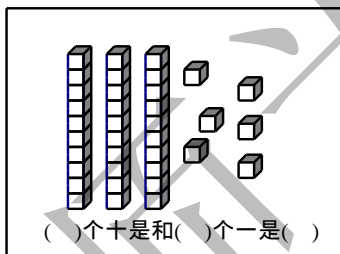
$46 \bigcirc 64$	$55 \bigcirc 23 + 32$	$97 - 54 \bigcirc 97 - 55$
$38 + 49 \bigcirc 38 + 44$	$90 - 13 \bigcirc 40 + 36$	$76 - 67 \bigcirc 65 - 56$

3. 用竖式计算.

$29 + 34 =$	$80 - 27 =$	$100 - 72 =$
$38 + 52 =$	$48 - 39 =$	$65 + 33 =$

二、我会填空.

- 最大的两位数是(), 最小的两位数是(), 它们的差是().
- 比 37 大 12 的数是(), 比 37 小 12 的数是().
- 用计算器计算 $19 + 50$, 拨出 19 后, 要在()位再拨 5 颗珠子.
- 看一看, 填一填.



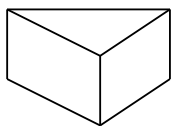
5. 在计数器上拨 6 颗珠子, 可以表示什么数? 画一画, 写一写.

十位 个位	十位 个位	十位 个位	十位 个位	十位 个位
(33)	()	()	()	()

三、我会观察.

1. 连一连.

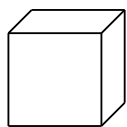





每个面都是长方形



有两个面是三角形



有两个面是圆




每个面都是正方形

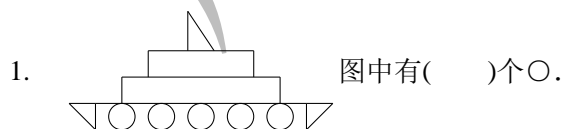
2. 分别是谁看到的？在右面连一连。



四、我会画图形。在点子上画一个长方形，一个正方形和一个三角形。



五、我会选择。(把正确答案的序号填在括号里。)



1. 图中有()个○。

- ① 6 ② 5 ③ 4

2. 在算式 $59 - 27 = 32$ 中，27 是()。

- ① 被减数 ② 减数 ③ 差

3. 草地上有 25 只小兔，小鸭比小兔少 6 只，小鸭有()只。

- ① 31 ② 6 ③ 19

4. 比较()位上的数才能比较出 49 和 41 的大小。

- ① 个 ② 十 ③ 百



5. 淘气有 20 本故事书，笑笑的故事书比淘气的多一些。笑笑可能有()本。

- ① 19 ② 50 ③ 30

六、我会解决问题。

1. 玩具店。



12元



28元



45元

(1)电话比飞机便宜多少元？

$\square \circ \square = \square$ (元)

答：电话比飞机便宜_____元。

(2)琪琪带的钱刚好够买一辆自行车和一架飞机，她带了多少元？

$\square \circ \square = \square$ (元)

答：她带了_____元。

2. 笑笑今年 7 岁，她的妈妈今年 32 岁。笑笑出生时，她的妈妈多少岁？

$\square \circ \square = \square$ (岁)

答：笑笑出生时，她的妈妈_____岁。

3. 跳绳。



①观察图中的信息，完成表格。

	小猪	小兔	小猴
跳了多少个	()个	()个	()个
名次	第()名	第()名	第()名

②最多的跳了_____个，最少的跳了_____个，相差_____个。

$\square \circ \square = \square$ (个)

智力挑战！

1. 想一想，填一填。



扫一扫，订阅顺为教育微信公众号 (ID: shunweijiaoyu)，获取更多独家资料和新资讯！

$$\begin{array}{r} 1 \square \\ + \square 6 \\ \hline 7 4 \end{array}$$

$$\begin{array}{r} 4 4 \\ + \square \square \\ \hline 1 0 0 \end{array}$$

2. 每个空格中只能填 1、2、3、4、5 的一个，每一横行、每一竖行的数不能重复。

5	1			3
1	3			4
4	2		1	5
2		4	3	1
3	4	1		2

