

成都市锦江区小学 2017—2018 学年度上期

二年级数学期末检测题

编者: 高凌云老师

一、填空.

1. $5+5+5+5=()\times()=()$, 表示()个()相加是().



2.

一共有()元()角.

3. 从 49 里面每次减 7, 最多能减 7 次, 可以用除法算式()来计算.

4. $7\times 6+6$, 可以看成()个 6 相加, 用口诀()直接算出得数是().

5. 63 是 9 的()倍, 可以列算式()计算.

6. 一个乘数是 5, 另一个乘数是 8, 积是().

7. 把乘法口诀补充完整.

五五()

四()三十二

()()十八

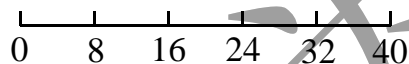
8. 在横线上填写合适的长度单位或数.

李老师高约 165_____

床长约_____米

二、画一画.

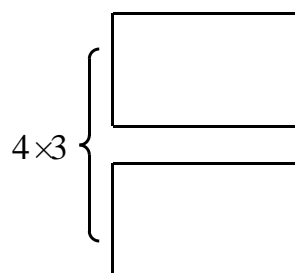
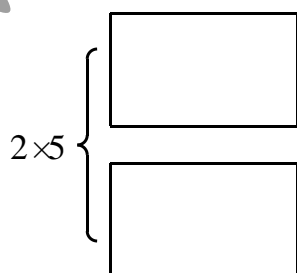
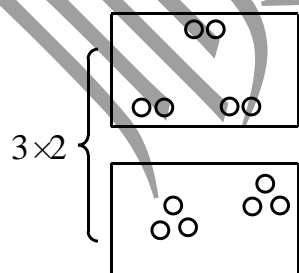
1. 画一画, 填一填.



$$8\times 5=8\times \square+8\times \square$$

2. 画一画, 数一数.

例:



3. 按要求画一画, 再算一算.

① \circ 的个数是 \star 的 3 倍, \circ 有 \square 个. $\square \circ \square = \square ()$

$\star \star \star \star \star$



②先画 8 个 Δ , 再每 2 个为 1 份圈一圈, 能分 \square 份.

$$\square \bigcirc \square = \square \quad (\quad)$$

三、算一算.

1. 口算.

| | | | |
|----------------|---------------|----------------|----------------|
| $3 \times 5 =$ | $36 \div 6 =$ | $7 \times 2 =$ | $64 \div 8 =$ |
| $9 \div 9 =$ | $75 - 4 =$ | $28 \div 4 =$ | $6 \times 6 =$ |
| $8 \times 5 =$ | $48 \div 8 =$ | $6 + 77 =$ | $35 \div 7 =$ |

2. 用竖式计算.

| | | |
|------------------|-------------------|------------------|
| $15 + 37 + 19 =$ | $100 - 13 - 27 =$ | $88 - 29 + 13 =$ |
|------------------|-------------------|------------------|

3. 在 \bigcirc 里填上“>”、“<”或“=”, 在 \square 里填上合适的数.

| | | |
|--|-------------------------------|--|
| $7 \times 1 \bigcirc 7 + 1$ | $13 + 17 \bigcirc 5 \times 4$ | $18 \div 2 \bigcirc 18 \div 3$ |
| $5 + \square = \square \times \square$ | | $9 \times 6 = 9 \times \square + 9 \times \square$ |

四、判断.(对的打“√”, 错的打“×”)

下面是奇思和妙想参加投飞镖比赛的得分情况, 请根据表中的内容进行判断.

| | 第一次 | 第二次 | 第三次 |
|----|-----|-----|-----|
| 奇思 | 35 | 23 | 30 |
| 妙想 | 40 | 26 | 20 |

- 奇思第一次投飞镖的得分是 35 分. ()
- 奇思第一次的得分比第二次低. ()
- 妙想的得分一次比一次低. ()
- 妙想的总分比奇思高. ()

五、选择.(在括号里填上正确答案的序号)

- 这根钉子的长度是()厘米.



- | | | |
|----|----|----|
| ①6 | ②5 | ③4 |
|----|----|----|
- | | | |
|---------------------|----|----|
| $9 \times () < 60$ | | |
| ①5 | ②6 | ③7 |
- 把一筐苹果平均分给小朋友们.小朋友的人数越多, 每个小朋友分得的苹果就().

| | | |
|-----|-----|-----|
| ①越少 | ②越多 | ③不变 |
|-----|-----|-----|
- ()个小朋友手拉手, 长度大约是 5 米.


| | | |
|----|----|-----|
| ①1 | ②5 | ③10 |
|----|----|-----|



六、解决问题.

1. 淘气折了 39 颗幸运星, 笑笑比淘气多折了 16 颗, 两人一共折了多少颗幸运星?

2.



①一共有 个

○ = ()


口诀: _____

②把这些苹果平均分给 2 个小朋友, 每人分 个.

○ = ()

口诀: _____

3.



①买 7 枝玫瑰需要 元.

○ = ()

②每枝百合的价钱是菊花的 倍.

○ =

②笑笑买了一种花, 正好用完 72 元, 她可能买了哪种花? 买了几枝? (在图上圈出来, 再算一算.)

○ = ()

答: 买了 _____ 枝.

智力挑战

1. 想一想, 填一填.

$5 \times 5 + 5 = \square \times 5$

$9 \times 6 - 9 = \square \times \square$

$4 \times 5 + 8 = \square \times 4$

2. 下面的 Δ 、 \circ 分别代表一个数.

如果, $\Delta + \Delta + \Delta = 12$ $\Delta + \circ + \circ + \circ = 22$

那么, $\Delta = \square$

$\circ = \square$

3. 淘气很细心, 在口算乘法时把一个乘数 9 看成了 6, 这样积就算成了 48, 你知道正确答案是多少吗? 把你的思考过程写下来.



答：正确答案是_____.

顺为教育



扫一扫，订阅顺为教育微信公众号（ID：shunweijiaoyu），获取更多独家资料和新资讯！