

锦江区 2017-2018 学年度上期一年级数学

终结性评价

编者: 唐致瑶老师

一、我会计算

1. 算一算

$$\begin{array}{cccc}
 8+4=12 & 19-3=16 & 5+6=11 & 15+3=18 \\
 17-2=15 & 8-6=2 & 18-7=11 & 9+5=14 \\
 14+0=14 & 12-10=2 & 9-9=0 & 3+14=17 \\
 10-7=3 & 5+8=13 & 16-10=6 & 7+6=13 \\
 8+6+2=16 & 15-10+4=9 & 17-5-2=10 &
 \end{array}$$

2. 在○里填上>、<或=, 在□内填上合适的数.

$$0+7 \text{ ○ } 7 \qquad 13 \text{ ○ } 5+6 \qquad 10+6 \text{ ○ } 9+8$$

【答案】从左往右依次是“=”、“>”、“<”

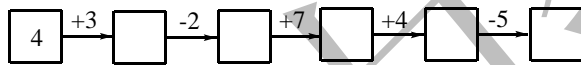
【解析】 $7=7$; $13>11$; $16<17$

$$\square + 4 = 10 \qquad \square - \square = 0 \qquad 11 > \square$$

【答案】从左往右依次是 6; 4, 4; 10

【解析】 $6+4=10$; 答案不唯一; 答案不唯一

3. 开火车

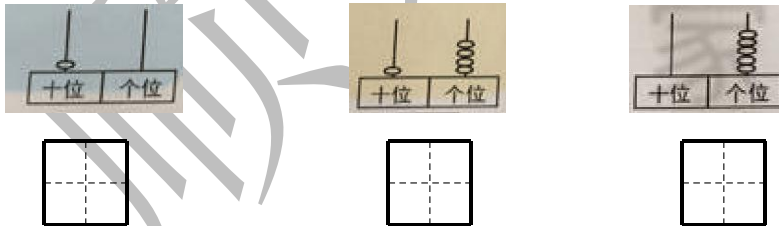


【答案】从左往右依次是 7, 5, 12, 16, 11

【解析】 $4+3=7$; $7-2=5$; $5+7=12$; $12+4=16$; $16-5=11$

二、我会填空

1. 看图写数



【答案】从左往右依次是 10; 14; 5

2. ①1 个十就是(10)个 1.

②19 里面有(1)个十和(9)个一, 再加 1 个一就是(20).

③11 的十位上的“1”表示(1)个(十); 个位上的“1”表示(1)个(一)

3. 填一填

18	16			10		6
----	----	--	--	----	--	---

7				11	12
---	--	--	--	----	----

【答案】14, 12, 8; 8, 9, 10;

【解析】从左往右依次-2; 从左往右依次+1



4. 想一想, 填一填.

	10	

- ① 10 的上面写 1, 下面写 0.
- ② 在 1 的左边写 3.
- ③ 在 0 的右边写 20.
- ④ 还剩()个空格没有写数.

【答案】

3	1	
	10	
	0	20

还剩(4)个空格没有写数

【解析】9 个空格, 有 5 个空格填写了数字, 还有 $9-5=4$ 个空格没有写数

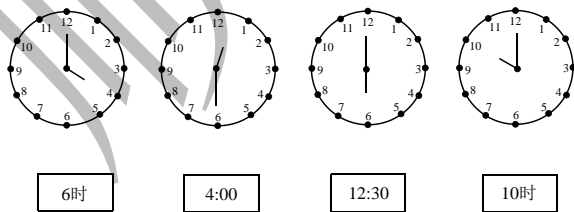
三、我会辨认

1. 认一认, 填一填.

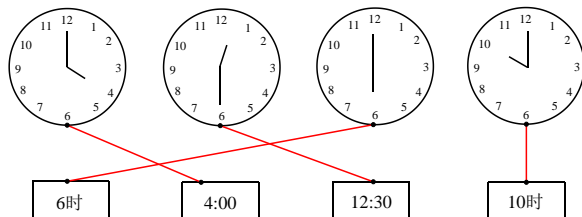


- ① 长方体有(3)个; 正方体有(2)个; 圆柱有(1)个; 球有(2)个.
- ② 从左数, 圆柱是第(2)个; 从右数, 圆柱是第(7)个.

2. 认一认, 连一连.



【答案】



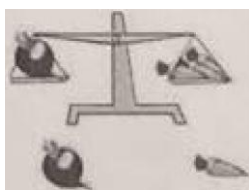
3. 比一比.

① 那根绳子最长？画√.哪根绳子最短？画○.



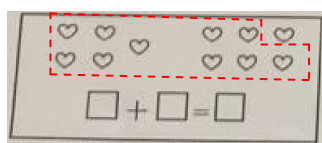
【解析】绕得越多，绳子越长

② 轻的画“√”，重的画○.




四、 我知道计算的道理.

1. 圈一圈，算一算



【答案】5+6=11

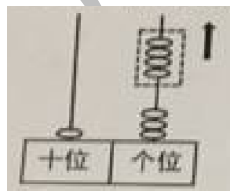
2. 画一画，算一算



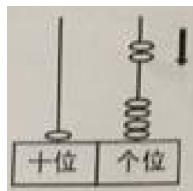
【答案】19-7=12

【解析】毛毛虫的身体共 19 节，13、14、15、16、17、18、19 共 7 节，剩下 12 节

3. 仔细观察，再列式算一算.



17 ○ □ = □



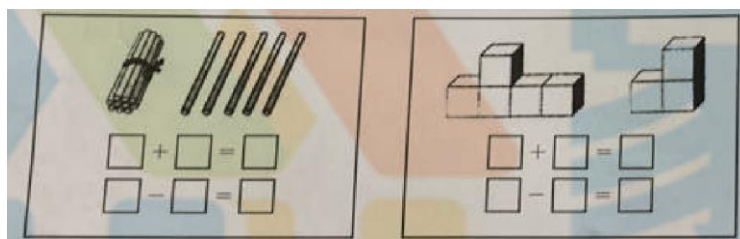
14 ○ □ = □

【答案】17-4=13; 14+2=16



五、 我会解决问题

1. 看一看，算一算.



$$\square + \square = \square$$

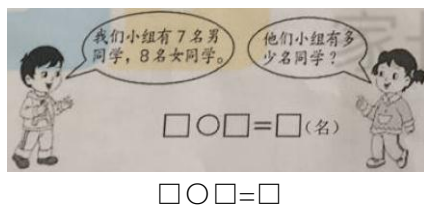
$$\square - \square = \square$$

$$\square + \square = \square$$

$$\square - \square = \square$$

【答案】 $10+5=15$ 或 $5+10=15$ 、 $15-5=10$ 或 $15-10=5$;
 $5+3=8$ 或 $3+5=8$ 、 $8-5=3$ 或 $8-3=5$

2.



【答案】 $7+8=15$

3. 可爱的小兔子



① 黑兔和白兔一共多少只? $\square \circ \square = \square$ (只)

② 三种兔子一共有多少只? $\square \circ \square \circ \square = \square$ (只)

【答案】 ① $4+8=12$ ② $2+4+8=14$

4. 笑笑有 13 元钱, 她买哪两样能刚好用完? 圈一圈, 再列出算式.



$$\square \circ \square = \square (\text{元})$$

【答案】 $8+5=13$



智力挑战.

1. 先算出□是多少，再算一算△和○分别是多少.

①

$$\begin{array}{l} \square + 4 = 9 \\ \square = (\quad) \end{array}$$

②

$$\begin{array}{l} \square - \triangle = 3 \quad \square + \bigcirc = 8 \\ \triangle = (\quad) \quad \bigcirc = (\quad) \end{array}$$

【答案】①5 ②2、3

【解析】① $5+4=9$ ② $5-2=3$ 、 $5+3=8$

2. 把 2、3、4、5 分别填入□.

$$\square + \square - \square = \square$$

$$\square + \square - \square = \square$$

在每个式子里每个数只能用一次.

【答案】 $2+5-3=4$ ； $3+4-5=2$

【解析】 $2+5=7$ 、 $3+4=7$ ，任意选择搭配，使等式成立，答案不唯一

