

锦江区 2017-2018 学年度上期一年级数学

终结性评价

编者: 唐致瑶老师

一、我会计算

1. 算一算

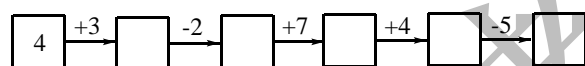
$8+4=$	$19-3=$	$5+6=$	$15+3=$
$17-2=$	$8-6=$	$18-7=$	$9+5=$
$14+0=$	$12-10=$	$9-9=$	$3+14=$
$10-7=$	$5+8=$	$16-10=$	$7+6=$
$8+6+2=$	$15-10+4=$	$17-5-2=$	

2. 在○里填上>、<或=, 在□内填上合适的数.

$0+7 \bigcirc 7$ $13 \bigcirc 5+6$ $10+6 \bigcirc 9+8$

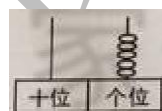
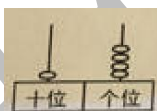
$\square+4=10$ $\square-\square=0$ $11>\square$

3. 开火车



二、我会填空

1. 看图写数



2. ①1 个十就是()个 1.

②19 里面有()个十和()个一, 再加 1 个一就是().

③11 的十位上的“1”表示()个(); 个位上的“1”表示()个()

3. 填一填

18	16			10		6
----	----	--	--	----	--	---

7				11	12
---	--	--	--	----	----

4. 想一想, 填一填.

	10	

① 10 的上面写 1, 下面写 0.

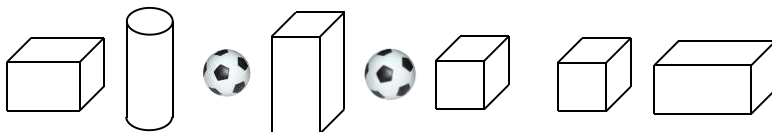
② 在 1 的左边写 3.



- ③ 在 0 的右边写 20.
- ④ 还剩()个空格没有写数.

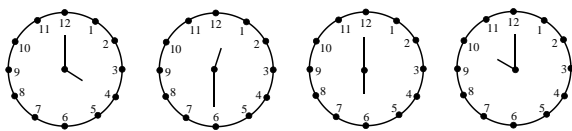
三、我会辨认

1. 认一认, 填一填.



- ① 长方体有()个; 正方体有()个; 圆柱有()个; 球有()个.
- ② 从左数, 圆柱是第()个; 从右数, 圆柱是第()个.

2. 认一认, 连一连.



-
-
-
-

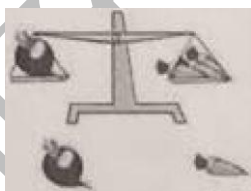
3. 比一比.

- ① 那根绳子最长? 画√. 哪根绳子最短? 画○.



-
-
-

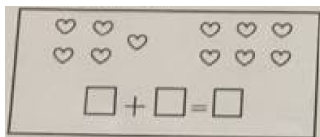
- ② 轻的画“√”, 重的画○.



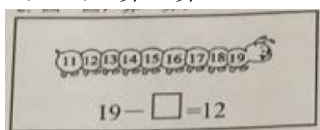
-
-

四、我知道计算的道理.

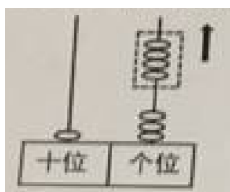
1. 圈一圈, 算一算



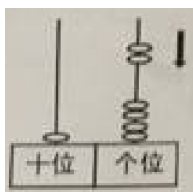
2. 画一画, 算一算



3. 仔细观察, 再列式算一算.



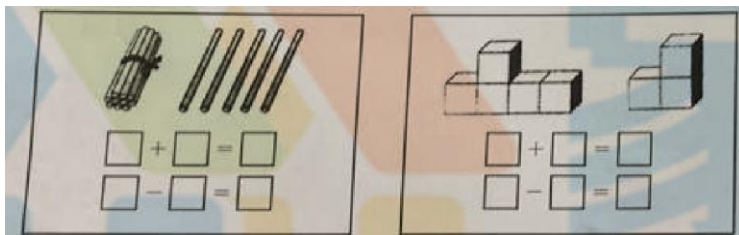
$$17 \bigcirc \square = \square$$



$$14 \bigcirc \square = \square$$

五、 我会解决问题

1. 看一看, 算一算.



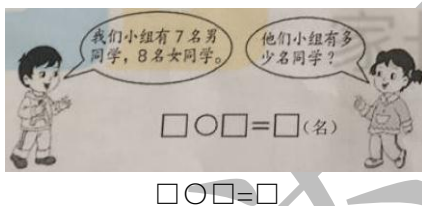
$$\square + \square = \square$$

$$\square - \square = \square$$

$$\square + \square = \square$$

$$\square - \square = \square$$

2.



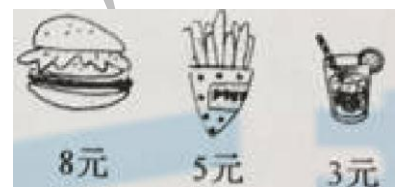
3. 可爱的小兔子



① 黑兔和白兔一共多少只? □ ○ □ = □ (只)

② 三种兔子一共有多少只? □ ○ □ ○ □ = □ (只)

4. 笑笑有 13 元钱, 她买哪两样能刚好用完? 圈一圈, 再列出算式.



$$\square \bigcirc \square = \square (\text{元})$$



智力挑战.

1. 先算出□是多少，再算一算△和○分别是多少.

①

$$\begin{array}{l} \square + 4 = 9 \\ \square = (\quad) \end{array}$$

②

$$\begin{array}{l} \square - \triangle = 3 \quad \square + \bigcirc = 8 \\ \triangle = (\quad) \quad \bigcirc = (\quad) \end{array}$$

2. 把 2、3、4、5 分别填入□.

$$\square + \square - \square = \square$$

$$\square + \square - \square = \square$$

在每个式子里每个数只能用一次.

