

# 2017—2018 学年度上期期末学生学业发展水平测试

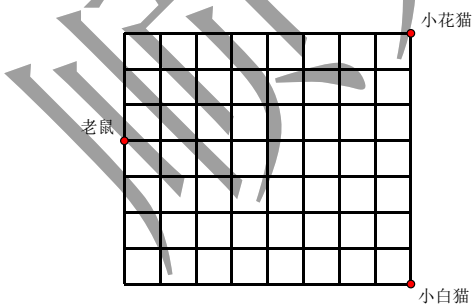
## 二年级数学

编者: 高凌云老师

### A 卷

一、填空。(第 8 题共计 1 分, 其余每空 1 分, 共 30 分)


- $7+7+7+7+7+7$ , 改写成乘法算式是( )或者( )。
- $54 \div 6 = ( )$ , 读作( ), 表示把( )平均分成( )份, 每份是( )。用到的乘法口诀是( )。
- 今年妹妹 6 岁, 哥哥 8 岁。当哥哥 20 岁时, 妹妹( )岁。
- 1 张 50 元可以换( )张 20 元和( )张 10 元。
- 在括号里填上适当的长度单位  
 大树高约 8( )                      妈妈身高的 160( )  
 新华字典厚约 5( )                  一瓶饮料高约 20( )  
 教室宽约 6( )                      我的课桌高约 75( )
- 8 是 4 的( )倍, 8 的 4 倍是( ), ( )的 2 倍是 14, 32 里面有 4 个( ), ( )个 6 是 24, 20 是( )的 5 倍。
- 括号里最大能填几?  
 ( ) $\times 8 < 50$                        $7 \times ( ) < 58$                        $74 > 9 \times ( )$
- $8 \times 6 = 8 \times 5 + ( ) = 8 \times ( ) - 8$
- 甲数除以乙数等于 6, 则甲数是乙数的( )倍。
- 笑笑用一把断了的尺子量铅笔的长度, 从 3 厘米处开始, 到 19 厘米处结束, 铅笔实际的长度是( )厘米。
- 如图, 小花猫和小白猫同时出发, 如果它们跑得一样快, ( )先捉到老鼠?



二、判断题。(每题 1 分, 5 分)

- 2 个 9 相乘, 积是 81. ( )
- 18 是 6 的 3 倍, 也可以说 3 的 6 倍是 18. ( )
- 操场的跑道长 200 厘米. ( )
4. ( )





这支铅笔长 5 厘米. ( )

5. 把 21 个苹果分给 7 个小朋友, 每人一定能分 3 个苹果. ( )

三、算一算.(共 33 分)

1. 直接写出答案(共 18 分)

$28 \div 4 =$	$9 \times 6 =$	$8 + 7 =$	$7 \times 3 =$	$56 \div 8 =$
$0 \times 6 =$	$73 - 25 =$	$8 \times 3 =$	$8 \div 8 =$	$62 + 29 =$
$100 - 27 + 29 =$	$5 \times 6 + 6 =$	$4 \times 7 + 12 =$	$6 \times 9 =$	$63 \div 9 =$
34 角 + 56 角 = 元	1 元 - 7 角 = 角	3 元 7 角 + 4 元 3 角 = 元		

2. 在  $\square$  填上“>”, “<”, 或“=”(共 6 分)

7 元 3 角 $\square$ 72 角	2 米 5 厘米 $\square$ 250 厘米	$7 \times 6 \square 51 - 8$
$4 \times 8 \square 4 \times 9$	$4 \times 2 \square 48 \div 8$	$9 \div 9 \square 6 \div 6$

3. 竖式计算.(共 9 分)

$76 - 47 + 25 =$	$100 - 69 - 18 =$	$24 + 36 + 12 =$
------------------	-------------------	------------------

四、画一画并列式计算.(共 6 分)

1. 画一条比 7 厘米短 2 厘米的线段.

$\square \bigcirc \square = \square$

2. 画  $\bigcirc$ , 使  $\bigcirc$  是  $\square$  的 3 倍



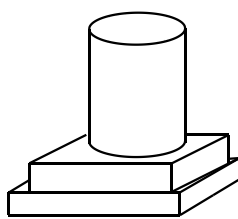
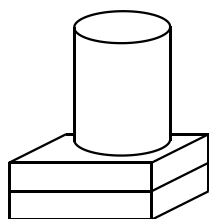
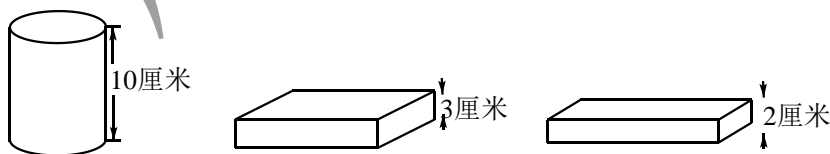
$\square \bigcirc \square = \square$

3. 画  $\triangle$ , 使  $\star$  是  $\triangle$  的 2 倍



$\square \bigcirc \square = \square$

五、搭积木, 填高度.(共 2 分)



( ) 厘米

( ) 厘米

六、解决问题.(共 24 分)

1. 购物



(1) 一双鞋的价格是一双袜子的几倍?

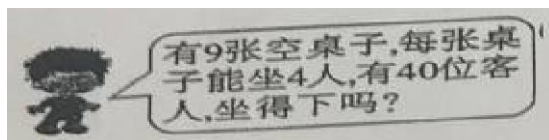
(2) 衣服的价格是一双手套的 8 倍, 一件衣服多少元?

2. 小静有一根 1 米长的丝带, 用去 40 厘米, 还剩多少厘米?

3. 篮子里有 35 个松果, 小松鼠计划吃一个星期, 小松鼠平均每天能吃几个?

4. 王叔叔的水果店有 80 个苹果, 上午卖出去 36 个, 下午又运来 40 个, 王叔叔的店里现在有多少个苹果?

5.



**B 卷**

1. 哥哥和弟弟各有 50 元, 哥哥给弟弟 5 元后, 弟弟比哥哥多( )元.



扫一扫, 订阅顺为教育微信公众号 (ID: shunweijiaoyu), 获取更多独家资料和新资讯!

2. 把一根木头锯成 2 段需要 2 分钟, 如果要把这根木头锯成 4 段需要( )分钟.
3. 一根细绳对折三次后, 每段长 3 米, 这根细绳原来长( )米.
4. 合唱队共有 24 人, 其中女生人数是男生的 3 倍, 女生有( )人.

顺为教育

