

2017—2018 学年度武侯区小学数学二年级(上册)

学业质量测评试题

编者: 高凌云老师

一、算一算.

1. 直接写得数.

$4 \times 6 =$

$5 + 5 =$

$42 + 7 =$

$6 \div 3 =$

$4 \times 3 =$

$48 - 8 =$

$35 + 25 =$

$12 - 4 =$

$9 \times 9 =$

$72 - 52 =$

$63 - 30 =$

$16 + 54 =$

2. 计算下面各题.(在虚线框中写出计算过程)

$52 - 40 + 25 =$

$86 - 42 - 12 =$

$67 + 33 - 27 =$

3. 在○里填上“>”, “<”或“=”.

$4 + 4 \bigcirc 4 \times 4$

$2 \times 5 \bigcirc 5 \times 2$

$5 \times 4 \bigcirc 9$

二、填空.

1. $6 + 6 + 6 + 6 + 6 = \square \times \square$, 用乘法口诀()计算.积是().

2. 小青蛙每次跳()格, 跳了()次, 一共跳了()格.



3. 小明身高 130() 一张床长 2()

4. “12 除以 6 等于 2”写成算式是(), 其中除数是(), 12 里面有()个 6.

5. \square 里填上合适的数.

$\square \times 3 = 15$


$9 \times \square = 27$

$\square \times 8 = 32$

三、选择.

1. 买米老鼠玩偶需要()钱.





- A. 1 元 5 角
- B. 15 元 5 角
- C. 1 元 55 角

2. 量一量下面这条花边的长度, 长是()。



- A. 9cm
- B. 8cm
- C. 7cm

3. 8 个 6 相加的和是多少? 列式是()。

- A. 8+6
- B. 8+8+8+8+8+8
- C. 8×6

4. 42 厘米+58 厘米=()米

- A. 1
- B. 90
- C. 100

5. 王明把 24 个苹果平均分给李晓、王莉、刘涛还有自己, 每人分别得到()个苹果。

- A. 8
- B. 4
- C. 6

四、判断。(对的打“√”, 错的画“×”)

- 1. 今年爷爷 63 岁, 孙子正好 7 岁, 爷爷的年龄是孙子的 9 倍。 ()
- 2. “35÷5”与“5×7”解决的数学问题是相同的。 ()
- 3. ()×6<45, ()里最大填 9。 ()

五、画一画, 圈一圈。

1. ○的个数是△的 3 倍。


△△△

2. □的个数与△共 8 个。


△△

3. 画一条比 8cm 短 5cm 的线。

4. 9×7=□, 圈一圈, 填一填。



$9 \times 7 = 9 \times \square + 9 \times \square$



$9 \times 7 = 9 \times \square + 9 \times \square$

六、解决问题。

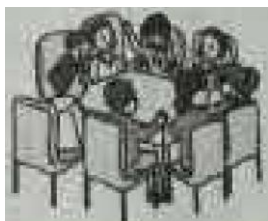
1. 28 枝花插在 2 个花瓶里, 其中一瓶插 7 枝, 另一瓶插了多少枝?



2. 有 12 位客人, 每人一杯水, 需要几壶水?



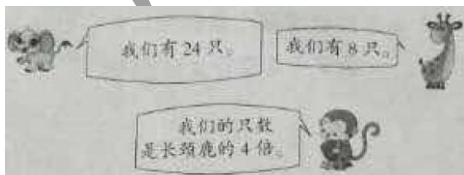
3. 7 张这样的桌子可以坐多少人?



4. 每辆汽车限乘客 8 人.(写明理由)



5. 动物园.
(1)小猴有多少只?



- (2)大象的只数是长颈鹿的几倍?



(3)三种动物一共有多少只?

6. 二年级 3 个班共有男生 49 人, 女生 45 人.他们乘大、小两辆汽车去郊游, 大汽车坐满 56 人后, 小汽车应坐多少人?

顺为教育

