

2017—2018 学年度(上)期末教学测评

小学一年级数学



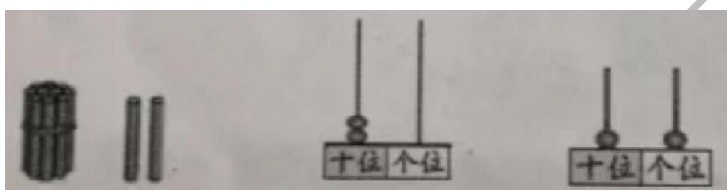
编者: 唐致瑶老师

一、我会算。(共 24 分)

$18-8=$ <u>10</u>	$2+4=$ <u>6</u>	$9-6=$ <u>3</u>	$7+6=$ <u>13</u>
$3+0=$ <u>3</u>	$7+3=$ <u>10</u>	$12+3=$ <u>15</u>	$10-4=$ <u>6</u>
$10+2=$ <u>12</u>	$14-3=$ <u>11</u>	$8-5=$ <u>3</u>	$3+9=$ <u>12</u>
$6+6=$ <u>12</u>	$7-7=$ <u>0</u>	$17-10=$ <u>7</u>	$5+8=$ <u>13</u>
$0+8+2=$ <u>10</u>	$8-2+4=$ <u>10</u>	$10-5-2=$ <u>3</u>	$4+3-4=$ <u>3</u>

二、我会填。(共 30 分)

1. 看图写数。



【答案】从左往右依次是 12; 11; 2

- 18 的十位上是(1), 个位上是(8).
- 16 里面有(6)个一和(1)个十.
- 数一数, 填一填.

7	8			11
---	---	--	--	----

12		16	18	
----	--	----	----	--

【答案】9, 10; 14, 20

【解析】从左往右依次+1; 从左往右依次+2

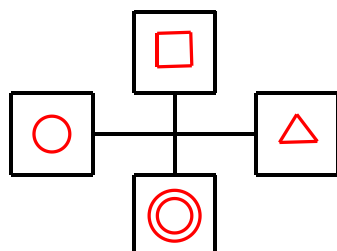

- 在○里填上“>”、“<”或“=”.

$10 \bigcirc 9$	$18-8 \bigcirc 8$	$9+2 \bigcirc 9+3$
$7 \bigcirc 17$	$5+7 \bigcirc 12$	$7+4 \bigcirc 4+7$

【答案】从左往右, 先上后下依次是“>”、“>”、“<”、“<”、“=”、“=”


- 按要求画一画, 在☆左边画“○”, 上面画“□”, 右边画“△”, 下面画“◎”.





【答案】

7. 宝物在几号盒子里？



- (1)宝物放在 3 号盒的上面. 宝物可能放在()号盒子或()号盒子里.
 (2)宝物不在最上面. 宝物可能放在()号盒子里.

【答案】1, 2; 2

8. 在□里填上合适的数.

$9 < \square$ $15 > \square$ $\square + 5 = 13$ $\square - \square = 7$

【答案】从左往右依次是 10; 14; 8; 8, 1

【解析】第一、二、四小题满足题意即可.

9. 你能看懂吗？



计算 $8 + 6$ ，
 先算 $8 + (2) = (10)$ ，
 再算 $10 + (4) = (14)$ 。

三、我会比一比。(共 4 分)

1. 水最多的画√，水最少的画○。



2. 高的画√，矮的画○。






四、我会选一选，在会飞的下面画“√”。(4分)



() () () () ()

五、我会连一连。(共 6 分)



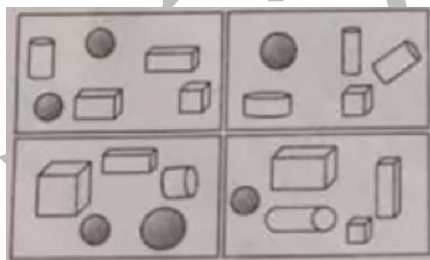
7时半

12时

5时半

9时

六、我会数一数。(共 4 分)




左上图有(2)个长方体,

左下图有(1)个正方体,

右上图有(3)个圆柱,

右下图有(1)个球.

七、我会看图写算式。(共 3 分)



$$\square + \square = \square$$

$$\square - \square = \square$$

【答案】 $5+4=9$; $9-5=4$ (或 $9-4=5$)

八、我会解决问题。(共 25 分)

1. 一共有多少只?






$$\square \bigcirc \square = \square$$

【答案】 $7+5=12$

【解析】蜂巢里 7 只加上外面 5 只一共等于 12 只。

2.




$$\square \bigcirc \square = \square$$

【答案】 $5-2=3$

【解析】一共 5 人减去甲板上的 2 人等于船舱内的 3 人。

3. 还剩下几个?



$$\square \bigcirc \square = \square$$

【答案】 $8-4=4$

【解析】一共 8 个圆，移走 4 个还剩下 4 个。

4. 一共有多少枝?



$$\square \bigcirc \square \bigcirc \square = \square$$

【答案】 $3+12+2=17$

【解析】左边 3 枝加中间 12 枝加右边 2 枝一共等于 17 枝。

5.





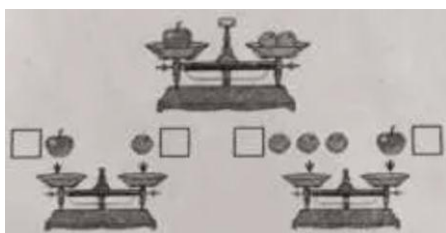
$$10 - \square - \square = \square$$

【答案】 $10 - 2 - 6 = 2$

【解析】一共 10 只小鸡，减去左边 2 只吃东西的小鸡，再减去中间的 6 只，就是被遮住的 2 只小鸡。

附加题：(每小题 10 分，共 20 分)

1. 在重的一边画“√”。



【答案】左边画“√”； 左边画“√”。

【解析】一个苹果的重量等于两个橙子的重量，若拿走一个橙子，一个苹果比一个橙子重，若增加一个橘子，一个苹果比三个橙子轻。

2. 把 1, 3, 5, 7 分别填入，在每个式子里每个数只能用一次。

$$\square + \square - \square = \square \quad \square + \square - \square = \square$$

【答案】 $3 + 5 - 1 = 7$ $1 + 7 - 3 = 5$

【解析】 $3 + 5 = 8$, $1 + 7 = 8$ (3 和 5 位置可调换, 1 和 7 的位置可调换)

