

## 2017-2018 学年度(上)期末教学测评

### 小学二年级数学

编者: 高凌云老师

#### 一、我会算.(共 32 分)

1. 口算.(每题 1 分, 共 20 分)


$6 \times 3 =$	$20 \div 4 =$	$2 \times 8 =$	$36 \div 6 =$
$16 \div 2 =$	$3 \times 5 =$	$7 \times 6 =$	$9 \times 9 =$
$1 \times 6 =$	$40 \div 5 =$	$45 - 5 =$	$32 \div 8 =$
$24 \div 3 =$	$7 \times 4 =$	$54 \div 6 =$	$56 \div 7 =$
$4 \times 4 =$	$35 \div 7 =$	$5 \times 9 =$	$36 \div 9 =$

2. 竖式计算.(每题 4 分, 共 20 分)

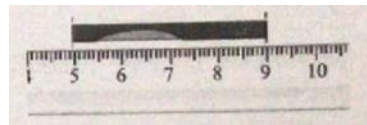
$27 + 18 - 42 =$                        $32 + 9 + 15 =$                        $100 - 28 - 25 =$

#### 二、我会填.(共 32 分)

- 6+6+6+6 表示( )个( )相加, 改写成乘法算式是( )或( ).
- 把乘法口诀补充完整.  
( )九二十七              三( )十五              ( ) ( ) 四十二
- 1 张 10 元可以换( )张 5 元.
- 1 张 20 元+2 张 2 元=( )元.
- 汽水 1 元 5 角 1 瓶, 淘气付 2 元买了一瓶, 应找回( )角.
- 找规律, 填一填.  
(1)12, 15, ( ), 21, 24, ( ).  
(2)64, 56, ( ), ( ), 32, 24.
- 填一填.



( ) 厘米



( ) 厘米

8. 填上 *cm* 或 *m*.

牙刷长 16( ).

门高 2( ).

旗杆高 8( ).

写字时眼镜应离书本 33( ).

9. 在括号里填上适当的数.

$6 \times ( ) = 48$                $( ) \div 3 = 7$                $( ) \div 4 = 9$                $7 \times ( ) = 35$

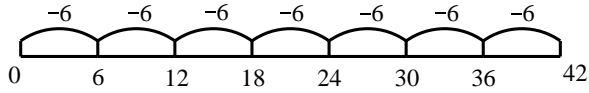
10. 4 的 3 倍是( ), 30 是 6 的( )倍.

11. 括号里最大能填几?

$7 \times ( ) < 46$                        $( ) \times 9 < 68$                        $69 > ( ) \times 8$

12. 下图用除法算式表示是( ) $\div$ 6=( ).






三、我会选, 把正确答案的序号填到括号里.(共 5 分)

1. 商店有 89 台电脑, 卖出 38 台后, 又运回 29 台.估一估, 现在商店里的电脑数比原来( ).

- ① 多
- ②少
- ③一样多

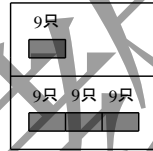
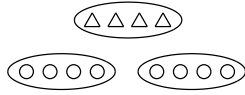
2. 算式  $12 \div 6 = 2$  不能表示( ).

- ① 12 是 6 的 2 倍
- ②把 12 每 6 个分一份, 可以分成 2 份
- ③12 里面有 4 个 3

3.  是下面( )号图形打开后得到的.



4. 下面能正确表示“2 倍”的意思的图是( ).



5. 两个班的同学坐一艘可乘 100 人的船游湖, 一班 38 人, 二班 40 人. “ $38 + 40$ ” 算的是( ).

- ①两个班一共有多少人
- ②一班比二班少多少人
- ③船上还剩多少个空座位

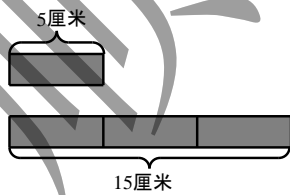
四、我会画.(6 分)

1. 画一条比 3 厘米长 2 厘米的线.

2. 画一个图, 表示  $15 \div 3 = 5$ .

五、我会解决问题.(每小题 5 分, 共 25 分)

1. (1)

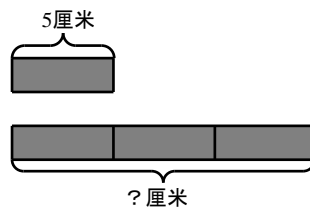


长纸条的长度是短纸条的几倍?

$\square \bigcirc \square = \square$

答: 长纸条的长度是短纸条的 \_\_\_\_\_ 倍.

(2)



长纸条的长度是多少厘米?

$\square \bigcirc \square = \square$

答: 长纸条的长度是 \_\_\_\_\_ 厘米.

2. 奶糖: 6 元 洗衣粉: ? 元

(1)李老师有 40 元, 想买 7 袋奶糖.她带的钱够吗?

$\square \bigcirc \square = \square$  ( )

答: 她带的钱 \_\_\_\_\_.



(2)如果用 40 元买洗衣粉, 可以买 5 袋.每袋洗衣粉多少元?

$$\square \bigcirc \square = \square \quad ( \quad )$$

答: 每袋洗衣粉\_\_\_\_\_元.

3. 购物小票:《故事丛书》16 元,《手工丛书》28 元.

笑笑给了收银员 100 元.

应找给笑笑多少钱?

答: 应找给笑笑\_\_\_\_\_元.

我会思考.(附加题: 每题 10 分, 共 20 分)

1. 在括号里填上适当的数.

$$3+3+9=3 \times ( \quad )$$

$$4+4+8=4 \times ( \quad )=8 \times ( \quad )$$

$$6 \times 9-6=( \quad ) \times ( \quad )$$

$$( \quad ) \times 5+5=8 \times ( \quad )$$

2. 学校合唱团有 32 人, 女生人数是男生人数的 3 倍.合唱团有女生多少人?(遇到困难可以画图哦!)

