

2017-2018 学年度(上)期末教学测评

小学二年级数学

编者: 高凌云老师

一、我会算.(共 32 分)

1. 口算.(每题 1 分, 共 20 分)

$6 \times 3 = 18$	$20 \div 4 = 5$	$2 \times 8 = 16$	$36 \div 6 = 6$
$16 \div 2 = 8$	$3 \times 5 = 15$	$7 \times 6 = 42$	$9 \times 9 = 81$
$1 \times 6 = 6$	$40 \div 5 = 8$	$45 - 5 = 40$	$32 \div 8 = 4$
$24 \div 3 = 8$	$7 \times 4 = 28$	$54 \div 6 = 9$	$56 \div 7 = 8$
$4 \times 4 = 16$	$35 \div 7 = 5$	$5 \times 9 = 45$	$36 \div 9 = 4$

2. 竖式计算.(每题 4 分, 共 20 分)

$27 + 18 - 42 = 3$	$32 + 9 + 15 = 56$	$100 - 28 - 25 = 47$
$\begin{array}{r} 27 \\ +18 \\ \hline 45 \end{array} \quad \begin{array}{r} 42 \\ -42 \\ \hline 3 \end{array}$	$\begin{array}{r} 32 \\ +9 \\ \hline 41 \\ +15 \\ \hline 56 \end{array}$	$\begin{array}{r} 100 \\ -28 \\ \hline 72 \\ -25 \\ \hline 47 \end{array}$

二、我会填.(共 32 分)

1. $6 + 6 + 6 + 6$ 表示(4)个(6)相加, 改写成乘法算式是($4 \times 6 = 24$)或($6 \times 4 = 24$).

2. 把乘法口诀补充完整.

(三)九二十七 三(五)十五 (六)(七)四十二

3. 1 张 10 元可以换(2)张 5 元.

【解析】 $10 \div 5 = 2$ 张

4. 1 张 20 元+2 张 2 元=(24)元.

【解析】 $20 + 2 + 2 = 24$ 元

5. 汽水 1 元 5 角 1 瓶, 淘气付 2 元买了一瓶, 应找回(5)角.

【解析】 $2 \text{ 元} - 1 \text{ 元 } 5 \text{ 角} = 20 \text{ 角} - 15 \text{ 角} = 5 \text{ 角}$.


6. 找规律, 填一填.

(1) 12, 15, (18), 21, 24, (27).


(2) 64, 56, (48), (40), 32, 24.

【解析】从左至右依次+3; 从左至右依次-8.

7. 填一填.



(4)厘米



(4)厘米

8. 填上 *cm* 或 *m*.

牙刷长 16(*cm*).

门高 2(*m*).

旗杆高 8(*m*).

写字时眼镜应离书本 33(*cm*).

9. 在括号里填上适当的数.

$6 \times (8) = 48$ $(21) \div 3 = 7$ $(36) \div 4 = 9$ $7 \times (5) = 35$



10. 4 的 3 倍是(12), 30 是 6 的(5)倍.

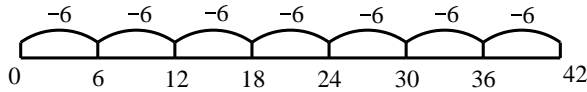
11. 括号里最大能填几?

$7 \times (6) < 46$

$(7) \times 9 < 68$

$69 > (8) \times 8$

12. 下图用除法算式表示是(42) \div 6=(7).



三、我会选, 把正确答案的序号填到括号里.(共 5 分)

1. 商店有 89 台电脑, 卖出 38 台后, 又运回 29 台.估一估, 现在商店里的电脑数比原来(②).

① 多

②少

③一样多


【解析】卖出台数大于运回台数, 即 $38 > 29$, 所以比原来少.

2. 算式 $12 \div 6 = 2$ 不能表示(③).

①12 是 6 的 2 倍

②把 12 每 6 个分一份, 可以分成 2 份

③12 里面有 4 个 3

3.  是下面(②)号图形打开后得到的.

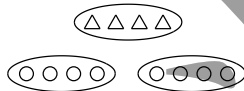


4. 下面能正确表示“2 倍”的意思的图是(①).

①

②

③



5. 两个班的同学坐一艘可乘 100 人的船游湖, 一班 38 人, 二班 40 人.“ $38 + 40$ ”算的是(①).

①两个班一共有多少人

②一班比二班少多少人

③船上还剩多少个空座位

四、我会画.(6 分)

1. 画一条比 3 厘米长 2 厘米的线.

【答案】

【解析】 $3 + 2 = 5$ 厘米

2. 画一个图, 表示 $15 \div 3 = 5$.

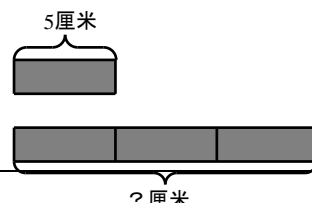
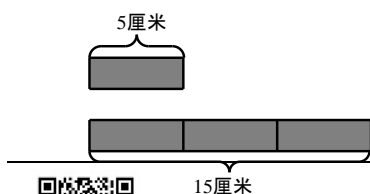
【答案】

【解析】15 个 \circ 每 3 个分为一份, 一共可以分 5 份.

五、我会解决问题.(每小题 5 分, 共 25 分)

1. (1)

(2)



扫一扫, 订阅顺为教育微信公众号 (ID: shunweijiaoyu), 获取更多独家资料和新资讯!

长纸条的长度是短纸条的几倍?

$$\square \bigcirc \square = \square$$

长纸条的长度是多少厘米?

$$\square \bigcirc \square = \square$$

【答案】 $15 \div 5 = 3$; $5 \times 3 = 15$ (厘米)

答: 长纸条的长度是短纸条的 3 倍. 答: 长纸条的长度是 15 厘米.

2. 奶糖: 6 元 洗衣粉: ? 元

(1) 李老师有 40 元, 想买 7 袋奶糖. 她带的钱够吗?

$$\square \bigcirc \square = \square \quad (\quad)$$

答: 她带的钱 不够.

【答案】 $6 \times 7 = 42$ (元) $42 > 40$, 不够

(2) 如果用 40 元买洗衣粉, 可以买 5 袋. 每袋洗衣粉多少元?

$$\square \bigcirc \square = \square \quad (\quad)$$

答: 每袋洗衣粉 8 元.

【答案】 $40 \div 5 = 8$ (元)

3. 购物小票: 《故事丛书》16 元, 《手工丛书》28 元.

笑笑给了收银员 100 元.

应找给笑笑多少钱?

答: 应找给笑笑 56 元.

【答案】 $100 - 16 - 28 = 56$ (元)

我会思考.(附加题: 每题 10 分, 共 20 分)

1. 在括号里填上适当的数.

$$3 + 3 + 9 = 3 \times (\quad 5 \quad)$$

$$4 + 4 + 8 = 4 \times (\quad 4 \quad) = 8 \times (\quad 2 \quad)$$

$$6 \times 9 - 6 = (\quad 6 \quad) \times (\quad 8 \quad)$$

$$(\quad 7 \quad) \times 5 + 5 = 8 \times (\quad 5 \quad)$$

【解析】 $9 = 3 \times 3$, 加上前面两个 3 一共五个 3; $8 = 4 \times 2$, 加上前面两个 4 一共四个 4, $4 + 4 = 8$, 加上后面一个 8 一共两个 8; 九个 6 减去一个 6 等于八个 6; 七个 5 加上一个 5 等于八个 5.

2. 学校合唱团有 32 人, 女生人数是男生人数的 3 倍. 合唱团有女生多少人? (遇到困难可以画图哦!)

【答案】 $1 + 3 = 4$ 倍, $32 \div 4 = 8$ (人), $8 \times 3 = 24$ (人) 答: 合唱团有女生 24 人.

【解析】题目可由以下图形表示:

