

# 成都市青羊区小学 2017—2018 学年度上期

## 二年级数学期末检测题

编者: 高凌云老师

### 一、填空.(20 分)

- 1 米=( 100 )厘米      2 元 3 角=( 23 )角
2. 一个数比 32 大, 比 40 小, 是 5 的倍数, 这个数是( 35 ).
3.  $6+6+6+6=( 4 )\times 6$      $7\times 5+7=( 7 )\times ( 6 )$      $( 3 )\times 8+8=4\times 8$
4. 3 根小棒捆成一捆, 24 根小棒能捆成( 8 )捆.  
把 24 根小棒平均分成 6 捆, 每捆有( 4 )根.

【解析】 $24\div 3=8$  (捆);  $24\div 6=4$  (根) .

### 5. 填上合适的长度单位.

- (1)一幢楼房高约 30( 米 ).
- (2)张叔叔身高约 175( 厘米 ).
- (3)一间教室宽约 6( 米 ).
- (4)一个茶杯高约 10( 厘米 ).

6. 面额为 10元 20元 50元 的人民币各有一些, 要拿出 100 元, 可以怎么拿? 写出两种不同的付钱方式.

- (1)\_\_\_\_\_.
- (2)\_\_\_\_\_.

【答案】(1) $10+20+20+50=100$  (元), (2) $50+50=100$  (元) (面额之和为 100 元均可)

7. 图书室有 48 人, 出去了 19 人后, 又进来了 25 人, 图书室多了( )人. 因为

【答案】6; 进来人数减去出去人数等于增加人数, 即  $25-19=6$  人.

8. 举例说一说“3 倍”的意思.

【答案】6 个苹果每 2 个一份可以平均分为 3 份, 所以 6 是 2 的 3 倍.

### 二、计算.(22 分)

1. 在  $\bigcirc$  里填上  $>$ 、 $<$  或  $=$ . (6 分)

$9+9\bigcirc 5\times 5$	$36\div 4\bigcirc 72\div 8$	$18-9\bigcirc 24\div 4$
$39\text{角}\bigcirc 2\text{元}$	$500\text{厘米}\bigcirc 3\text{米}$	$1\text{元}\bigcirc 2\text{角}+8\text{角}$

【答案】 $<$ ;  $=$ ;  $>$ ;  $>$ ;  $>$ ;  $=$  (顺序从左至右)

2. 按规律填数.(3 分)

(1)9, 18, 27, 36, ( ), 54.      (2)72, 64, 56, 48, ( ).

【答案】45; 40

【解析】从左至右依次+9; 从左至右依次-8.

3. 竖式计算(9 分)

(1)  $29+35+19=83$       (2)  $48+32-26=54$       (3)  $97-25-34=38$

$$\begin{array}{r} 29 \\ +35 \\ \hline 64 \end{array} \quad \begin{array}{r} 64 \\ +19 \\ \hline 83 \end{array}$$

$$\begin{array}{r} 48 \\ +32 \\ \hline 80 \end{array} \quad \begin{array}{r} 80 \\ -26 \\ \hline 54 \end{array}$$

$$\begin{array}{r} 97 \\ -25 \\ \hline 72 \end{array} \quad \begin{array}{r} 72 \\ -34 \\ \hline 38 \end{array}$$



4. 列式计算.(4 分)


(1)8 的 7 倍是多少?

(2)除数是 2, 商是 6, 被除数是多少?

【答案】 $8 \times 7 = 56$ ;  $2 \times 6 = 12$

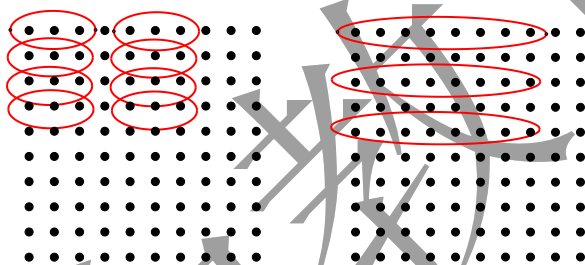
二、数学理解.(16 分)

1. 画一画, 分别用两种方法在图上表示算式的意思.(2 分)



$3 \times 8$

【答案】



【解析】 $3 \times 8$  既表示 8 个 3 也表示 3 个 8

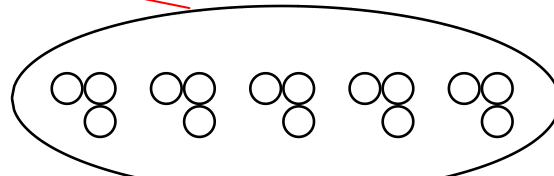

2. 连一连.(4 分)

$3 + 4 \times 3$

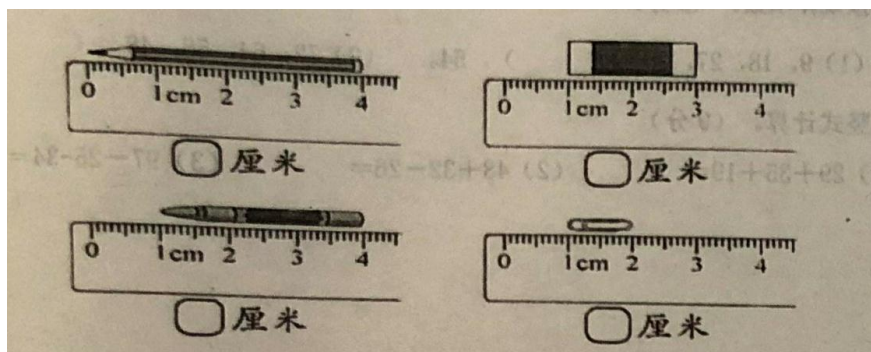
3 个 5

5 个 3

$5 + 5 + 5$



3. 量一量.(4 分)



扫一扫, 订阅顺为教育微信公众号 (ID: shunweijiaoyu), 获取更多独家资料和新资讯!

【答案】4; 2; 3; 1 (顺序从左至右)

【解析】物体长度等于所在刻度的终点减去所在刻度的起点.

4. 画一画.(6 分)

(1) 先画 12 个  $\Delta$ , 再把这些  $\Delta$  平均分成 3 份.

【答案】 $\Delta\Delta\Delta\Delta$      $\Delta\Delta\Delta\Delta$      $\Delta\Delta\Delta\Delta$

【解析】 $12 \div 3 = 4$  个

(2) 先画 15 个  $\circ$ , 再每 5 个一份圈一圈.

【答案】 $\circ\circ\circ\circ\circ$      $\circ\circ\circ\circ\circ$      $\circ\circ\circ\circ\circ$

【解析】 $15 \div 5 = 3$  份

(3) 先画 3 个  $\Delta$ , 再画  $\circ$ ,  $\circ$  的个数是  $\Delta$  的 2 倍.

【答案】 $\Delta\Delta\Delta$      $\circ\circ\circ\circ\circ$

【解析】 $3 \times 2 = 6$  个

四、判断.(正确的话  $\checkmark$ , 错误的话  $\times$ )(5 分)

1. 把 10 本书分成两份, 每份一定是 5 本. (  $\times$  )
2. 要测量足球场的长度, 通常都是使用厘米作单位. (  $\times$  )
3. 如果被除数和除数都是 4, 那么商是 1. (  $\checkmark$  )
4. 口诀“四七二十八”不能用来计算“ $28 \div 4$ ”. (  $\times$  )
5. 小华用来洗脸的毛巾长 5 米. (  $\times$  )

【解析】未说明是平均分; 通常用“米”作单位;  $4 \div 4 = 1$ ; 1~9 的除法用乘法口诀计算; 根据生活常识明显错误.


五、解决问题.(22 分)

1. 如图.下图中一共有( )个小朋友, 把他们平均分成 5 个组, 每组有几人?


答: 每组有\_\_\_\_\_人.

【答案】20; 4.

【解析】 $20 \div 5 = 4$  人.



2.



(1)淘气有多少张画片？

答：淘气有\_\_\_\_\_张画片.

【答案】15；2.

【解析】 $5 \times 3 = 15$ （张）； $10 \div 5 = 2$ .

(2)笑笑的画片是机灵狗的几倍.

答：笑笑的画片是机灵狗的\_\_\_\_\_倍.

3. 淘气第三次跳了多少下？

姓名	第一次	第二次	第三次	总成绩
淘气	24	30	★	90

答：淘气第三次跳了\_\_\_\_\_下.

【答案】36

【解析】 $90 - 24 - 30 = 36$ （下）

4. 购物.



(1)9 辆玩具车多少元？

答：9 辆玩具车\_\_\_\_\_元.

(2)30 元买 4 个风筝，够吗？

答：30 元买 4 个风筝，\_\_\_\_\_.

【答案】45；不够.

【解析】 $9 \times 5 = 45$ （元）； $4 \times 8 = 32$ （元）  $32 > 30$  不够

