

成都市青羊区小学 2017—2018 学年度上期

二年级数学期末检测题

一、填空.(20 分)


1. 1 米=()厘米 2 元 3 角=()角
2. 一个数比 32 大, 比 40 小, 是 5 的倍数, 这个数是().
3. $6+6+6+6=()\times 6$ $7\times 5+7=()\times ()$ $()\times 8+8=4\times 8$
4. 3 根小棒捆成一捆, 24 根小棒能捆成()捆.
把 24 根小棒平均分成 6 捆, 每捆有()根.
5. 填上合适的长度单位.
(1)一幢楼房高约 30(). (2)张叔叔身高约 175().
(3)一间教室宽约 6(). (4)一个茶杯高约 10().
6. 面额为 10元 20元 50元 的人民币各有一些, 要拿出 100 元, 可以怎么拿? 写出两种不同的付钱方式.
(1)_____. (2)_____.
7. 图书室有 48 人, 出去了 19 人后, 又进来了 25 人, 图书室多了()人. 因为_____.
8. 举例说一说“3 倍”的意思. _____

二、计算.(22 分)

1. 在○里填上 >、< 或 =.(6 分)
 $9+9 \bigcirc 5\times 5$ $36\div 4 \bigcirc 72\div 8$ $18-9 \bigcirc 24\div 4$
 $39 \text{ 角} \bigcirc 2 \text{ 元}$ $500 \text{ 厘米} \bigcirc 3 \text{ 米}$ $1 \text{ 元} \bigcirc 2 \text{ 角} + 8 \text{ 角}$
2. 按规律填数.(3 分)
(1)9, 18, 27, 36, (), 54. (2)72, 64, 56, 48, ().
3. 竖式计算(9 分)
(1) $29+35+19=$ (2) $48+32-26=$ (3) $97-25-34=$
4. 列式计算.(4 分)
(1)8 的 7 倍是多少? (2)除数是 2, 商是 6, 被除数是多少?

二、数学理解.(16 分)

1. 画一画, 分别用两种方法在图上表示算式的意思.(2 分)



3×8

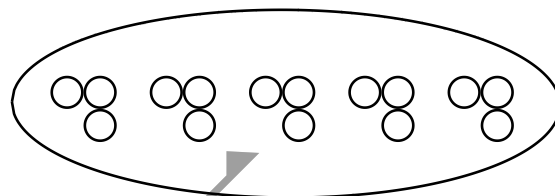
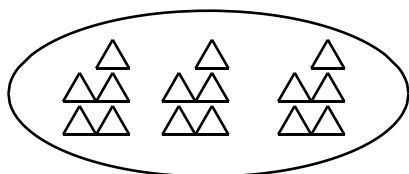
2. 连一连.(4分)

$3+4+3$

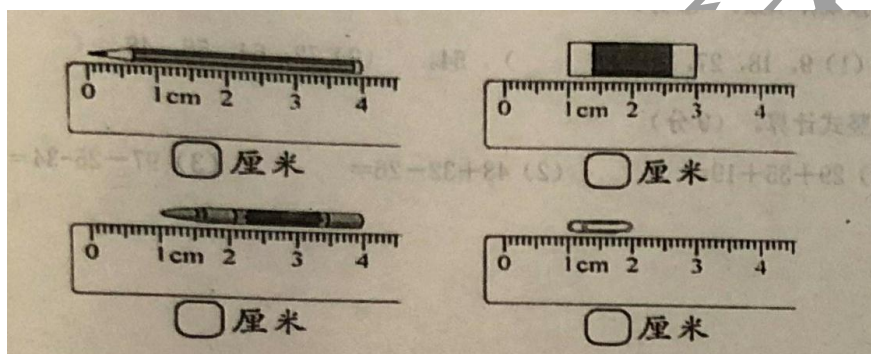
3个5

5个3

$5+5+5$



3. 量一量.(4分)



4. 画一画.(6分)

(1) 先画 12 个△, 再把这些△平均分成 3 份.

(2) 先画 15 个○, 再每 5 个一份圈一圈.

(3) 先画 3 个△, 再画○, ○的个数是△的 2 倍.

四、判断.(正确的话√, 错误的话×)(5分)

1. 把 10 本书分成两份, 每份一定是 5 本. ()

2. 要测量足球场的长度, 通常都是使用厘米作单位. ()




扫一扫, 订阅顺为教育微信公众号 (ID: shunweijiaoyu), 获取更多独家资料和新资讯!


- 3. 如果被除数和除数都是 4, 那么商是 1. ()
- 4. 口诀“四七二十八”不能用来计算“ $28 \div 4$ ”. ()
- 5. 小华用来洗脸的毛巾长 5 米. ()

五、解决问题.(22 分)

1. 如图.下图中一共有()个小朋友, 把他们平均分成 5 个组, 每组有几人?
答: 每组有_____人.



- 2.



- (1) 淘气有多少张画片?
答: 淘气有_____张画片.
- (2) 笑笑的画片是机灵狗的几倍.
答: 笑笑的画片是机灵狗的_____倍.

3. 淘气第三次跳了多少下?

| 姓名 | 第一次 | 第二次 | 第三次 | 总成绩 |
|----|-----|-----|-----|-----|
| 淘气 | 24 | 30 | | 90 |

答: 淘气第三次跳了_____下.

4. 购物.





(1)9 辆玩具车多少元?

答: 9 辆玩具车_____元.

(2)30 元买 4 个风筝, 够吗?

答: 30 元买 4 个风筝, _____.

顺为教育



扫一扫, 订阅顺为教育微信公众号 (ID: shunweijiaoyu), 获取更多独家资料和新资讯!