



武侯区 2016~2017 学年度下学期小学学业质量测评试题

一年级数学

时间:60 分钟

一、计算。(30 分)

1. 直接写得数。(12 分)

$13 - 5 =$	$14 - 8 =$	$17 - 9 =$
$10 - 6 =$	$50 + 30 =$	$66 - 60 =$
$30 + 48 =$	$80 - 40 =$	$51 + 8 =$
$76 - 8 =$	$39 + 7 =$	$42 - 5 =$

2. 用竖式计算。(18 分)

$26 + 45 =$	$56 - 9 =$	$64 + 19 =$
-------------	------------	-------------

$74 - 30 =$	$18 + 63 =$	$70 - 32 =$
-------------	-------------	-------------

4. 个位上是 8,十位上是 7 的两位数是()。
5. 52 和 59 两个数,()更接近 50,()更接近 60。
6. 最大的两位数比最小的两位数多()。
7. 在○里填上“>”“<”或“=”。

$24 + 19 \bigcirc 19 + 24$	$43 - 26 \bigcirc 44 - 26$
----------------------------	----------------------------

$39 - 27 \bigcirc 39 - 26$	$47 + 28 \bigcirc 47 + 24$
----------------------------	----------------------------

8. 填一填。

56 46 16 60 6 86 26 65 96 61



个位上是 6 的数



比 60 大的数



十位上是 6 的数

三、按要求完成。(8 分)

1. 一年级一班有 39 人,二班比一班人数多一些,二班可能有多少人呢?(4 分)
(在你认为合适的答案下面画“√”)

56 人	28 人	41 人

2. 他们看到的各是什么? 连一连。(4 分)

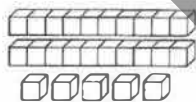


二、填空。(第 8 小题 6 分,其余每空 1 分,共 20 分)

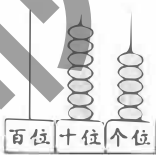
1. 看图写数。



()



()



()


2. 9 个十和 8 个一是(),再添()个一是 100。

3. 数“67”中十位上的 6 表示()。



四、图形认识。(8分)

(一)



- 给上图中的三角形涂上红色。
- 圆有()个,长方形有()个。

(二)请在点子图上画一个正方形。

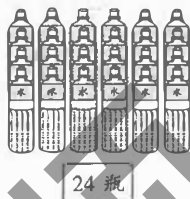


五、解决问题。(34分)

1.



咱们班有31人,每人1瓶够吗? 如果不够,还差几瓶?



$$\square \bigcirc \square = \square \text{ (瓶)}$$

答: _____, 还差 \square 瓶。

2.

美术组有34人。



电脑组比美术组多5人。



音乐组有23人。



(1)电脑组有多少人?

$$\square \bigcirc \square = \square \text{ (人)}$$

答: 电脑组有 \square 人。

(2)音乐组比美术组少多少人?

$$\square \bigcirc \square = \square \text{ (人)}$$

答: 音乐组比美术组少 \square 人。

3.



37元



24元



65元



?元

(1)买一个 和一辆 , 需要多少元?

$$\square \bigcirc \square = \square \text{ (元)}$$

(2)一辆 比一个 贵多少元?

$$\square \bigcirc \square = \square \text{ (元)}$$

(3) 和 相差10元, 飞机最多多少元? 最少呢?

最多: $\square \bigcirc \square = \square \text{ (元)}$

最少: $\square \bigcirc \square = \square \text{ (元)}$