



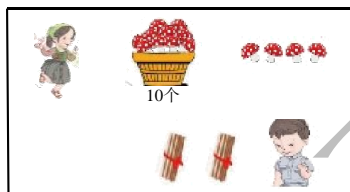
## 高新区 2017—2018 学年第一学期

### 一年级数学期末评价试卷

编者: 唐致瑶老师

一、填一填, 仔细看题想想再做哟.

1. 数一数, 在田字格里填数. 图画中有  个小朋友. 小姐姐一共摘了  个 . 小哥哥一共摆了  根 .



2. 妈妈端来一盘苹果招待客人, 恰好每个客人吃一个. 家里来了( )位客人




3. 找规律填数: 19、16、13、( )、( )、( )、1
4. 填“>”“<”或“=”.
- 17○6                  6+6○12                  18个一○20                  0+9○18+0
5. 在 3、5、8、11、7、20、19 中, 从左边起第 4 个数是( ), “7”排第( ), 这几个数中, 最大的数是( )最小的数是( ).
6. 7 个一和 1 个十组成的数是( ), 它后面的第 2 个数是( ).
7. 盘子里有 9 个桃, 小猴想把一些桃分到另一个盘子里, 猜一猜, 它可能拿走( )个, 还剩( )个. (填出一种情况即可)
8. 看图, 计算 8+6 时, 可以先算( ), 再算( ), 所以 8+6=( ).



二、选一选, 在括号里填正确答案的序号.

1. 被减数是 15, 减数是 5, 差是( ).
- ① 20                                  ② 10                                  ③ 3
2. 下面积木能放稳的是( ).



3.  再过 1 小时是( ).

① 7:00

② 6:00

③ 8:00



4. 一(1)班的第 12 号到第 15 号同学共有( )人.

① 15

② 3

③ 4

三、算一算, 认真细致地完成每道题哦.

1. 直接写得数.

$7+9=$     $15-2=$     $7+6=$     $10-5=$     $8+5=$     $16+3-3=$

$15-14=$     $4+8=$     $6+8=$     $14-4=$     $5-5=$     $6+5+3=$

$3+11=$     $8+7=$     $12+5=$     $1+19=$     $20-0=$     $9-2-4=$

2. 在  $\square$  里填上合适的数.

$\square+8=16$

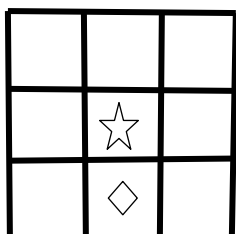
$\square-6=12$

$15-\square=10$

$8+4=\square+3$

四、做一做, 看懂题意再做题.

1. 下图中, 在  $\star$  的左面画  $\bigcirc$  . 在  $\star$  的右面画  $\blacktriangle$  . 在  $\diamond$  的右面画  $\odot$  .



2. 数一数, 有几个  $\bullet$  , 画出缺少的小棒, 再画出计数器上的算珠.



这个数由( )个十和( )个一组成, 写作: ( ) 读作: ( )

3. 看图列式计算.



从左右看:  $\square+\square=\square$  (个)

从形状看:  $\square+\square=\square$  (个)

从颜色看:  $\square+\square=\square$  (个)



$\square \bigcirc \square \bigcirc \square = \square$



4. 观察物体, 在横线上填序号



\_\_\_\_\_



\_\_\_\_\_



\_\_\_\_\_



\_\_\_\_\_

5. 连一连



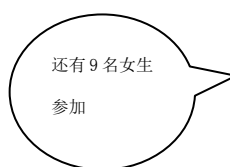
十时      9时刚过      12:00      快 10:00 了

五、秀一秀, 用自己的本领解决生活中的问题吧.

1.



学校举行跳绳比赛啦!  
我们一(1)班  
有 6 名男生参加



还有 9 名女生  
参加



一(1)班共有多少名同学参加跳绳比赛?

$\square \circ \square = \square$  (名)



2.



我们一(2)班有 16 名同学参加跳绳比赛,看,已经准备好了一部分跳绳



还要准备多少根跳绳?

$$\square \circ \square = \square (\text{根})$$

3.



已经发了 8 枚奖章,还剩下 10 枚



原来有多少枚奖章?

$$\square \circ \square = \square (\text{枚})$$

4. 教室里原有 9 名同学,又进来 8 名. 现在有几名同学?

后来又离开了 5 名



$$\square \circ \square \circ \square = \square (\text{名})$$

六、聪明题.

一根绳子用去一半多 1 米,还剩下 6 米.这根绳子原来有多少米?

