

成都市高新区小学 2017—2018 学年度上期

二年级数学期末检测题

A 卷

编者: 高凌云老师

一、填空。(第 2、6、7 题每个算式 2 分, 其余每空 1 分, 共 28 分)

1. 20 元 20 元 5 元 1 元 5 角

()元()角

1 张 100 元能换()张 20 元

2. 填一填

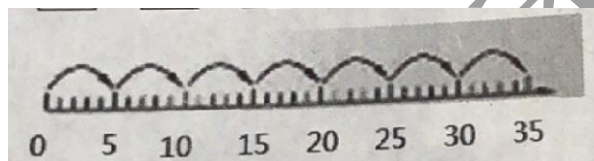
(1)



$$\square + \square + \square + \square + \square + \square = \square$$

$$\square \times \square = \square$$

(2)



$$\square \times \square = \square$$

3. 在 \square 里填上“>”“<”或“=”.

$4 \times 4 \square 8$

$42 \div 6 \square 6 \times 4$

$30 \div 6 \square 2 \times 3$

$60 \text{米} \square 60 \text{厘米}$

$90 \text{厘米} \square 1 \text{米}$

$1 \text{米} 30 \text{厘米} \square 1 \text{米} 35 \text{厘米}$

4. ()里最大能填几?

$() \times 8 < 39$


$9 \times () < 73$

$() \times 6 < 53$

5. 在()里填上适当的单位或数.

(1)一栋高楼大约高 24()


(2)一支粉笔长约 7()




(3)()厘米

6. 看图写出两道除法算式.





$$\square \div \square = \square \quad \square \div \square = \square$$



个数是 的 \square 倍 $\square \bigcirc \square = \square$


7.

二、判断.(对的画“√”错的画“×”)(5分)

1. 计算 $90 - 45 - 25$ 时, 可以先算“ $45 + 25$ ”.再算“ $90 - 70$ ”.()
2. 一张成人双人床的长大约 2 厘米.()
3. $7 + 7 + 7$ 和 7×3 的结果相等.()
4. 把 35 本书分给 7 个同学, 每个同学一定分到 5 本.()
5. 计算 9×7 和 $63 \div 9$ 时都可以用口诀“七九六十三”.()

三、选择正确答案的序号填在括号里.(5分)

1. 4 个 3 相加的和是多少? 正确的算式是().
 ① $4 + 3$ ② $3 + 3 + 3 + 3$ ③ $4 + 4 + 4 + 4$
2. 下面左边的图案是由第()张纸剪出来的.



3. 有 42 个苹果, 每个 6 个一盒, 一共有几盒? ()
 ① 6 ② 7 ③ 49
4. 淘气带了 50 元, 想买 1 本 28 元的《故事书》和 1 本 32 元的《手工书》.()
 ① 刚好够 ② 不够 ③ 有剩余
5. 小明身高 130()
 ① 厘米 ② 米 ③ 分米

四、算一算.(24分)

1. 直接写出得数.(每题 1 分, 共 12 分)

$$\begin{array}{cccccc} 6 \times 8 = & 3 \times 9 = & 24 + 4 = & 26 + 40 = & 27 \div 3 = & 8 + 8 = \\ 45 \div 9 = & 99 - 40 = & 5 \times 7 = & 54 \div 6 = & 4 \times 7 = & 8 \times 9 = \end{array}$$

2. 列竖式计算.(每题 4 分, 共 12 分)

$$39 + 32 + 17 = \quad 98 - 47 - 35 = \quad 100 - 78 + 12 =$$

五、画一画.(12分)

1. 画一条比 9 厘米短 6 厘米的线段.
2. 画图表示“ 4×3 ”.
3. \square 的个数是 \triangle 的 3 倍, 请画出 \square .

$\triangle \triangle \triangle$

六、问题解决.(26分)



1. 还有多少人没上车? (4 分)




2.



- (1) 笑笑买了 3 顶帽子, 一共花了多少元? (4 分)
- (2) 王老师带了 35 元, 想买 6 辆小汽车, 够么? (4 分)
- (3) 1 把伞的价钱是 1 顶帽子的几倍? (4 分)
- (4) 用“ $48 \div 6$ ”可以解决什么问题? (2 分)

3.



- (1) 爸爸今年多少岁? (4 岁)
- (2) 爷爷比爸爸大多少岁? (4 岁)

B 卷

1. 填一填.(6 分)

$3 \times 8 = \square \times 4$

$2 \times 8 = \square \times 4$

$2 \times 6 = \square \times 4$

2. 在空格里填数, 使横着、竖着、斜着三个数相加的和都是 45.(6 分)

	17	
	15	
		14

3. 填一填.(4 分)

$\Delta + \Delta + \Delta = 24$

$\square + \square + \square + \square + \square + \square = 24$

$\Delta = (\quad)$

$\square = (\quad)$

4. 算一算.(4 分)





淘气用 10 元钱买花, 有哪些买法刚好把钱用完? 写一写.(写出一种得 1 分, 最高 4 分)

顺为教育



扫一扫, 订阅顺为教育微信公众号 (ID: shunweijiaoyu), 获取更多独家资料和新资讯!