

2017—2018 学年度武侯区小学数学一年级(上册)

学业质量测评试题

编者：唐致瑶老师

一、算一算.

$3+1=$ _____

$5+2=$ _____

$7+3=$ _____

$0+2=$ _____

$8-7=$ _____

$5+4=$ _____

$9-5=$ _____

$3+9=$ _____

$14-2=$ _____

$12-1=$ _____

$6-6=$ _____

$10-9=$ _____

$4+7=$ _____

$15-4=$ _____

$8+6=$ _____

$8-6=$ _____

$10+1=$ _____

$17-5=$ _____

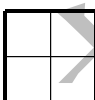
$13+4=$ _____

$4+4=$ _____

$1+7=$ _____

二、填空

1. 写出下图表示的数：



2. 18 里面有()个十和()个一.

3. 按规律填数.

14				10	9	
----	--	--	--	----	---	--


4. 在○里填上“>”、“<”或“=”.

$8 \bigcirc 15$

$6 \bigcirc 4$

$1+3 \bigcirc 7-3$

5.

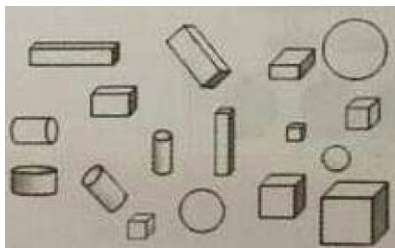


(1) 从前数，第 3 只小动物谁？(圈一圈)

(2) 小松鼠在小熊的(前、后)面，小蜜蜂在小兔的(前、后)面。(勾一勾)

(3) 从前数，小兔排在第()，它前面有()只小动物.

三、数数图形的数量.

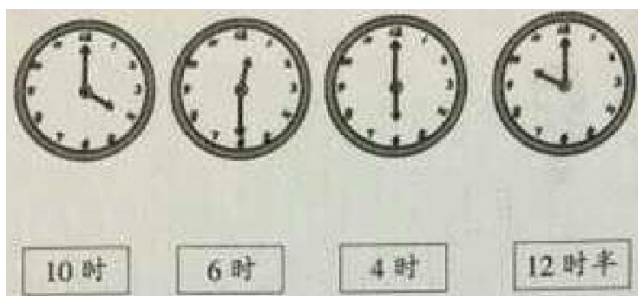


正方体	()个
长方体	()个
圆柱	()个
球	()个



四、连一连.

1.



2.

$2+8$

$8-2$

$6+3$


$9-0$

$7+3$


$1+5$

五、按要求完成.

1. 在文具用品的下画“√”，在体育用品下面画“○”.



2. 葡萄颗数最多的那串下面画“√”.



3. 高的画“√”，矮的画“○”.




4. 重的画“√”，轻的画“○”。



六、画一画，填一填。

例:



1. ○○○○○○○○_____

$8 + () = 10$

2. ○○○○○○_____

$6 - () = 1$

七、解决问题。

1. 一共有 颗糖。




$\square \circ \square = \square$ (颗)


2. 屋子里有 只兔



一共有 10 只兔子

$\square \circ \square = \square$ (只)

3. 还剩 个  没吃。



$\square \circ \square = \square$ (个)



4. 分饼干.

(1)数一数, 填一填.

动物有 只,



有 块,



有 块,



有 块.




(2)  和  一共有 块,

$$\square \bigcirc \square = \square (\text{块})$$

(3)每只动物一块 , 还差 块.

$$\square \bigcirc \square = \square (\text{块})$$

5. 现在还有 只鸟.



$$\square \bigcirc \square \bigcirc \square = \square (\text{只})$$

